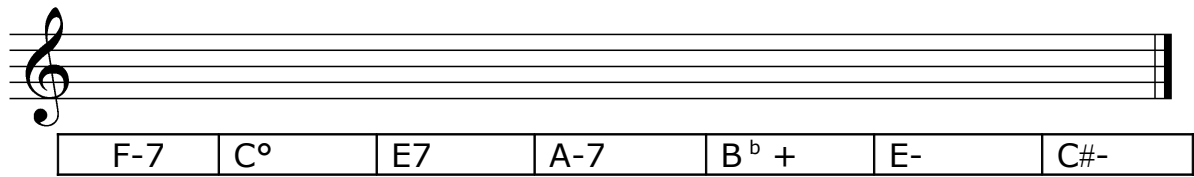
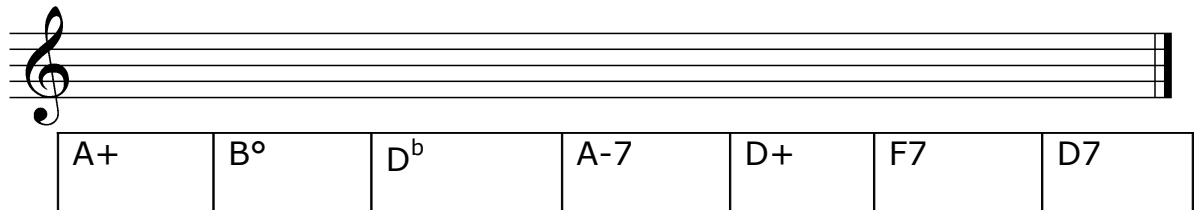


Akkordsymbolschrift & Dreiklänge

Aufgabe A: Schreiben Sie den verlangten Drei- bzw. Vierklang



F-7	C°	E7	A-7	B ^b +	E-	C#-
-----	----	----	-----	------------------	----	-----



A+	B°	D ^b	A-7	D+	F7	D7
----	----	----------------	-----	----	----	----

Aufgabe B: Ergänzen Sie die verlangten Dreiklänge um den Terz- und Quintton:



m
D
Ü
v
m
D
Ü
v
v
Ü

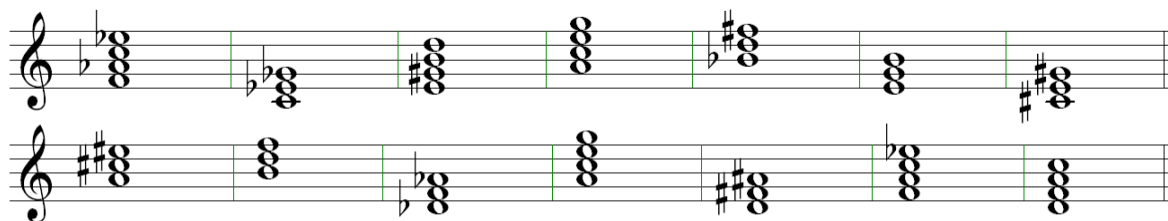
D
m
v
Ü
D
m
v
Ü
v
Ü

Aufgabe C: Bestimmen Sie die folgenden Intervalle hörend:

1.)	2.)	3.)	4.)	5.)
6.)	7.)	8.)	9.)	10.)

Akkordsymbolchrift & Dreiklänge LÖSUNG:

Aufgabe A: Schreiben Sie den verlangten Drei- bzw. Vierklang



Aufgabe B: Ergänzen Sie die verlangten Dreiklänge um den Terz- und Quintton:



Aufgabe C: Bestimmen Sie die folgenden Intervalle hörend:

1) D	2) m	3) D	4) v	5.) ü
6) ü	7) D	8) m	9.) v	10.) v